


12. В таблице записаны цены продуктов. Сколько рублей надо заплатить за покупку, состоящую из двух булочек и двух йогуртов?

Название товара	Цена
Булочка	12 руб.
Молоко	56 руб.
Масло	62 руб.
Йогурт	21 руб.

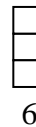
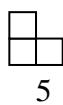
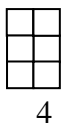
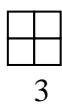
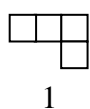
Решение:

Ответ:	
--------	--

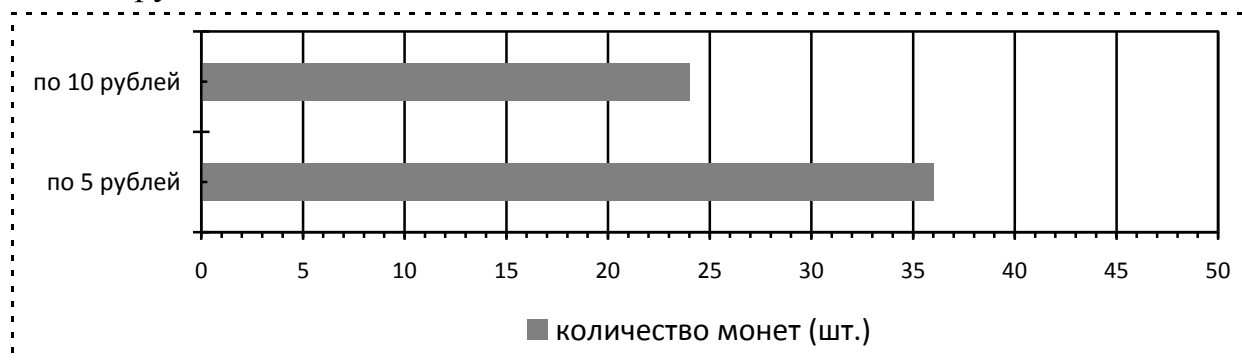
13. Из мозаики вынули две фигурки, составленные из её элементов, образовалась «дырка».



Какие фигурки вынули? Обведи их номера.



14. На диаграмме показано количество накопленных Витей пятирублевых и десятирублевых монет.




На сколько больше Витя накопил пятирублевых монет, чем десятирублевых?

Ответ: на _____ штук.

15. На рисунке изображен прямоугольник. Найди площадь этого прямоугольника, если сторона клетки – 1 см.

									1 см	
Ответ:	_____ кв. см									

Ученика(цы) _____

16. Служащий цирка записывал данные о медведях в тетрадь, но случайно уронил её в воду. Из последних записей осталось: масса медведицы Клавы 471 килограмм, а масса медведя Миши 4  6 килограммов. Служащий понял, что размыта одна цифра, но помнил, что Клава легче. Какие **цифры** могут быть на месте размытой?

Ответ: _____

17. Катя и Лена очень любят конфеты. До обеда они съели одинаковое число конфет, а после обеда Лена отказалась есть конфеты, а Катя съела ещё несколько. Пересчитав оставшиеся конфеты, девочки поняли, что Катя съела на 8 конфет больше, чем Лена. Сколько конфет съела Катя после обеда?

Отметь верный ответ .

Не хватает данных для ответа

16

8

4

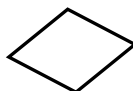
18. Рассмотрите фигуры, изображённые на рисунке. Запиши цифры, обозначающие эти фигуры, в соответствующие клетки таблицы. Для фигуры 1 это уже сделано.



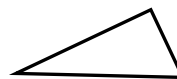
1



2



3



4



5

	Есть прямой угол	Нет прямого угла
Треугольник		1
Четырёхугольник		

19. В таблице представлены данные за три дня о температуре воздуха (в °С) в Сочи.

	12 марта	13 марта	14 марта
утро	+11	+12	+14
день	+13	+15	+16
вечер	+12	+14	+15
ночь	+10	+9	+12

Напиши дату, когда температура с 13 часов до 20 часов была самая низкая.

Ответ: ____ марта.